



Des hommes et des mammoths

Visite autonome • Niveau 1


Bonjour,

Te voici dans la salle « Des Hommes et des mammoths ». Repère les numéros rouges des zones. Dirige-toi à gauche de la salle, après la zone *Homo neanderthalensis*. (17)

L'Homme parmi les Primates

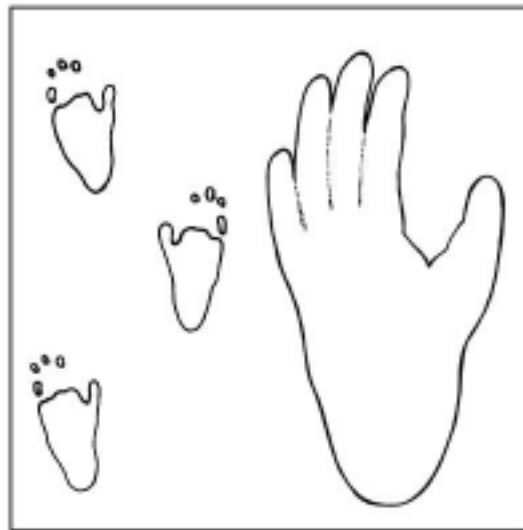
L'Homme est un primate (1) et les primates fossiles (3)

1. L'Homme fait partie d'une grande famille, les Primates, regroupant tous les singes et l'Homme lui-même. Ses cousins les plus proches sont l'orang-outan, le gorille et le chimpanzé. Les reconnais-tu ? (noircis les bonnes réponses).

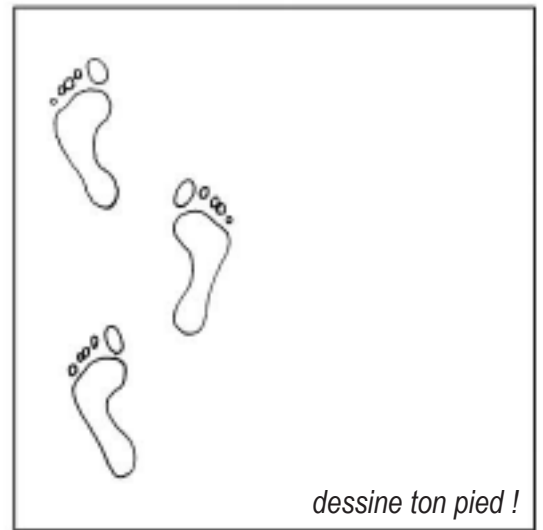


L'Homme se distingue des grands singes...(2)

2. L'Homme se différencie des grands singes notamment parce qu'il marche sur deux pieds : il est BIPÈDE. Observe bien le pied d'un chimpanzé et le pied d'un Homme. Le gros orteil du chimpanzé ressemble au pouce de la main; il permet notamment de s'agripper.



Traces et pied d'un chimpanzé
QUADRUPÈDE



Traces et pied d'un Homme
BIPÈDE

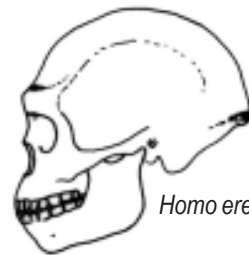
L'évolution de l'Homme

« Pilier évolution »

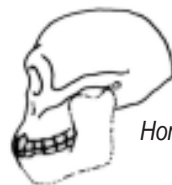
3. Nos ancêtres n'ont pas tous vécu en même temps et ils ont évolué. Chaque espèce d'ancêtres porte un nom que les scientifiques lui ont donné. Numérote-les dans l'ordre, de la plus ancienne à la plus récente.



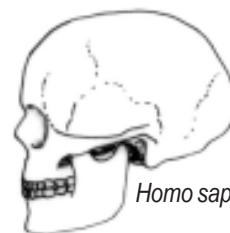
Australopithecus



Homo erectus



Homo habilis



Homo sapiens sapiens

Comment vivaient nos ancêtres ?


Bipédie (4) Les australopithèques

4. Voici une scène de la vie quotidienne de nos ancêtres, les australopithèques. Mais étaient-ils capables de faire tout ce qu'ils font sur le dessin ? Barre les erreurs.

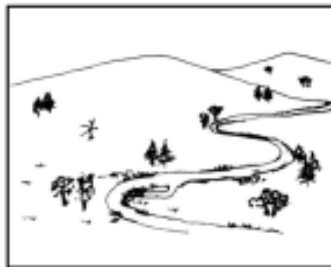


Le paysage de nos régions (7)

5. L'*Homo erectus* est le premier de nos ancêtres à quitter l'Afrique. On le retrouve en Asie, puis en Europe. A certaines époques, il y faisait très froid, à d'autres, le climat et la végétation étaient presque comme aujourd'hui. Choisi le paysage de nos régions lorsqu'il faisait très froid.



savane



steppe



forêt tempérée

Dirige-toi vers l'entrée de la salle, à ta droite.

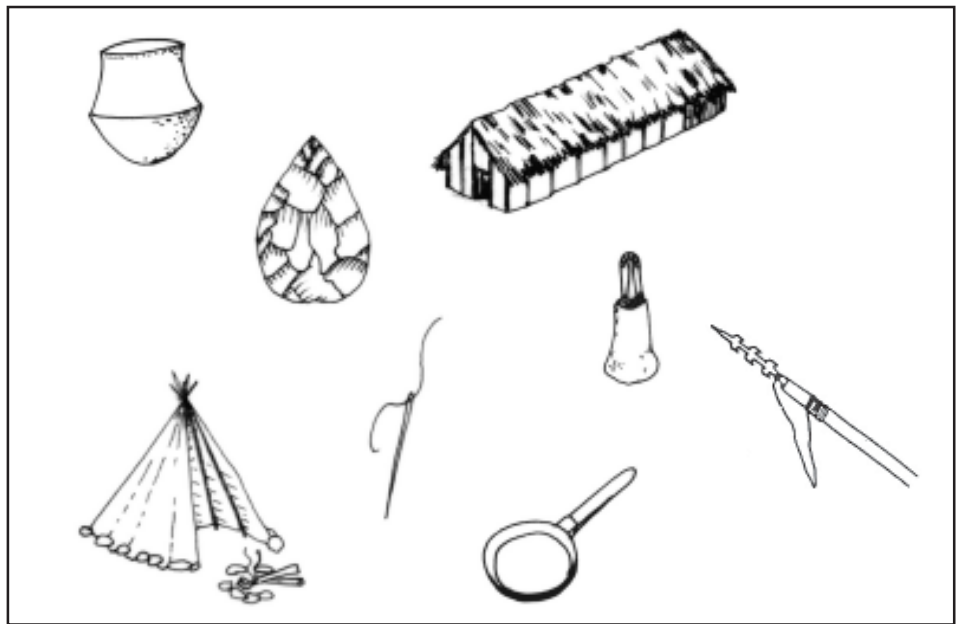
Spy (18-19)

6. Les Hommes de Spy, découverts dans une grotte près de Namur en 1886, sont très célèbres. Ce sont des :

- Hommes de Cro-Magnon
- Hommes de Néandertal
- Hommes sages


7. L'Homme de Néandertal vit principalement en (note le nom du continent)

8. L'Homme de Cro-Magnon, un *Homo sapiens sapiens*, était un chasseur-cueilleur nomade, comme ses ancêtres. Élimine les objets et les outils que l'Homme de Cro-Magnon n'a pas fabriqués ou utilisés.



Les animaux de l'époque glaciaire (14)

9. Voici un paysage qui représente nos régions à l'époque de la dernière glaciation. Retrouve le nom de tous les animaux présents.



1. éléphant - 2. renne - 3. rhinocéros - 4. mammouth
5. renard polaire - 6. cerf - 7. rhinocéros laineux

Panneau « chrono-
logie » à l'entrée

10. Nous voici à la fin du parcours. Peux-tu remettre dans l'ordre, en les numérotant de la plus ancienne à la plus récente, ces grandes étapes de la Préhistoire de l'Homme ?

- Outils taillés
- Agriculture et élevage
- Feu
- Bipédie
- Habitat en hutte ou tente